

2019-2020 EĞİTİM- ÖĞRETİM YIL BAHAR DÖNEMİ KLASİK ÇAĞ MİMARİSİ
QUIZ SINAVI

09.03.2020

Saat: 13:00

Adı:

Soyadı:

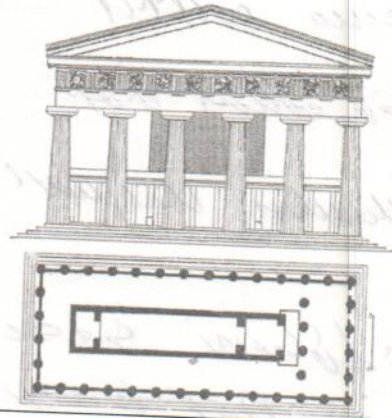
No:

- S.1. Görüntüsünü izlediğiniz slaytlarda yapıların adlarını yazınız (10 ar Puan).

A



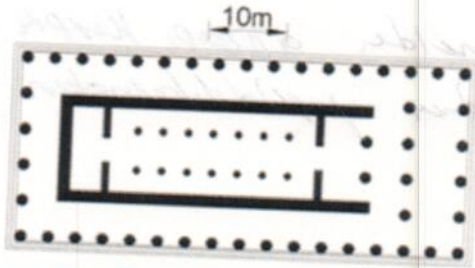
B




C



D



E



S.2: Karadeniz Bölgesi tapınaklarının Genel Özelliklerini yazınız (50 Puan)

Tüm öğrencilerimize başarılar dilerim.....

- A - Kyrene Apollon Tapınağı
- B - Selinus F Tapınağı
- C - Selinus C Tapınağı
- D - Syrakusa Apollon Tapınağı
- E - Selinus G Tapınağı